

DO NOT OPEN THE SEAL OF THE BOOKLET UNTIL YOU ARE TOLD TO DO SO

EXAM ID. - 6507

UPSSSC VDO

TEST SERIES

DATE - __/__/__

DAY -

INSTRUCTION FOR CANDIDATE

TEST SERIES NO.

A - 101

QUESTION – 150

MARKS – 300

NEGATIVE MARK – 1

DURATION – 120 MIN.

1. Use only ball pens with black or blue ink
2. As soon as the examination starts, you must check this question booklet and if there is any unprinted, mutilated or partially printed page or question in it, then replace it with the correct question booklet through Abhijagar.
3. There are total 150 questions in this question booklet.
4. This is an objective test, in which four options are given for the answer to each question, you have to choose only one option with the correct answer out of these four options.
5. Answers to all questions are to be written on separate answer sheets.
6. Instructions for filling the answer sheet are written on the back side of the answer sheet, read them carefully before filling the answer sheet.
7. Blank pages are available in this question booklet for rough work.
8. Candidates cannot leave the room before the end of the examination.
9. After the examination is over, you can go out with his permission by submitting the ORIGINAL COPY of the answer sheet to the invigilator.
10. After the completion of the examination, the candidate is allowed to take the question booklet and answer sheet with him/her.
11. 2 marks will be given for each correct answer and 1 marks will be deducted for each wrong answer.



**YOUR BRAND LOGO
HERE**

YOUR INSTITUTE NAME

Address- Your coaching institute full address

Helpline :- 7737404085, 8209244090

1. आंजनेय' शब्द में प्रयुक्त प्रत्यय है:
 - a) एय
 - b) य
 - c) नेय
 - d) ऐय
2. नृत्य' का तद्रव रूप कौन-सा होगा?
 - a) नृत
 - b) नाच
 - c) नचाना
 - d) नाचना
3. 'तुमने गाया होगा' इस वाक्य में कौन-सा काल है?
 - a) संदिग्ध भूत
 - b) संभाव्य भविष्य
 - c) अपूर्ण भूत
 - d) सामान्य भविष्य
4. वाक्य के कितने प्रकार है?
 - a) तीन
 - b) चार
 - c) एक
 - d) कोई प्रकार नहीं
5. आँख नीची होना' मुहावरे का क्या अर्थ है?
 - a) लज्जित होना
 - b) सामने न आना
 - c) नीची आँख से देखना
 - d) कहीं दूर चले जाना
6. लेखक और उसकी रचना का कौन-सा जोड़ा गलत है?
 - a) संस्कृति के चार अध्याय - रामधारी सिंह 'दिनकर'
 - b) रसज्ञ-रंजन - आचार्य महावीर प्रसाद द्विवेदी
 - c) स्कन्दगुप्त - लक्ष्मीनारायण मिश्र
 - d) अशोक के फूल - आचार्य हजारी प्रसाद द्विवेदी
7. "राजा की सभा = राजसभा" में कौन-सा समास है?
 - a) बहुव्रीहि समास
 - b) अव्ययीभाव समास
 - c) तत्पुरुष समास
 - d) द्वन्द्व समास
8. शब्दों के शुद्ध रूप का चयन कीजिए।
 - a) धन्यवाद
 - b) धन्यआवाद
 - c) धन्यावाद
 - d) धयवाद
9. इनमें से भाववाचक संज्ञा है:
 - a) सत्य
 - b) शेर
 - c) वाराणसी
 - d) पुस्तक
10. पुलिस के आने से पहले ही चोर भाग चुके थे। यह वाक्य किस काल का है?
 - a) सामान्य भूतकाल
 - b) आसन्न भूतकाल
 - c) पूर्ण भूतकाल
 - d) अपूर्ण भूतकाल
11. निम्नलिखित वाक्य का हिन्दी में अनुवाद कीजिये- They trooped out of room.
 - a) वे सब एक साथ कमरे से निकले
 - b) हम सब एक साथ बाहर आये
 - c) सभी एक साथ बाहर आये
 - d) सब कमरे से निकले
12. निर्देश: दिए गए वाक्य के लिए एक शब्द का चयन कीजिए। 'जो परिणय सूत्र में न बँधा हो'
 - a) अज्ञ
 - b) अभियोगी
 - c) सद्यःपरिणीत
 - d) अपरिणीत
13. "तन्मात्रा" शब्द का सही संधि विच्छेद क्या है ?
 - a) तत् + मात्रा
 - b) तन् + मात्रा
 - c) तम् + मात्रा
 - d) तप् + मात्रा
14. नीचे दिए गए शब्द का सही बहुवचन रूप वाला विकल्प पहचानिए- 'दूध'
 - a) दूध
 - b) दूधिया
 - c) दूधियाँ
 - d) इनमें से कोई नहीं
15. (15 - 18) निर्देश: निम्नलिखित गद्यांश को पढ़कर पूछे गए प्रश्नों के सही उत्तर लिखिए।
 भारतेंदुजी के जीवन का उद्देश्य अपने देश की उन्नति के मार्ग को साफ़-सुथरा और लम्बा-चौड़ा बनाना था उन्होंने इसके काँटों और कंकड़ों को दूर किया। उसके दोनों ओर सुन्दर क्यारियाँ बनाकर उसमें मनोरम फल-फूलों के वृक्ष लगाए। इस प्रकार उसे सुरम्य बना दिया कि भारतवासी उस पर आनन्दपूर्वक चलकर अपनी उन्नति के इष्ट स्थान तक पहुँच सकें। यद्यपि भारतेंदुजी ने अपने लगाए हुए वृक्षों को फल-फूलों से लदा नहीं देखा फिर भी यह कहने में किसी प्रकार का संकोच नहीं होगा कि वे जीवन के उद्देश्य में पूर्णतया सफल हुए। हिन्दी भाषा और साहित्य में जो उन्नति आज दिखाई पड़ रही है उसके मूल कारण भारतेंदुजी हैं और उन्हें ही इस उन्नति के बीज को रोपित करने का श्रेय प्राप्त है।
 " इस प्रकार उसे सुरम्य बना दिया कि" उपर्युक्त पंक्ति के अनुसार भारतेन्दु जी ने किसे सुरम्य बना दिया था?
 - a) भारतवासियों के उन्नति के मार्ग को
 - b) भारतवासी के आनन्द को
 - c) हिन्दी भाषा एवं साहित्य के मार्ग को
 - d) स्वयं के जीवन के उददेश्य को
16. भारतेन्दु जी ने अपने जीवन में क्या किया?
 - a) फल - फूलों के वृक्ष लगाए
 - b) हिन्दी भाषा एवं साहित्य की उन्नति के बीज बोए
 - c) रास्तों को सुंदर बनाया
 - d) भारतीयों को आनन्द प्रदान करने का प्रयास किया
17. भारतेंदुजी के जीवन का उद्देश्य था:
 - a) देश का विकास करना
 - b) मार्गों को साफ़ रखना
 - c) हिन्दी भाषा और साहित्य की उन्नति
 - d) भारतीय संस्कृति का विकास
18. 'काँटों और कंकड़ों' से क्या अभिप्राय है?
 - a) मार्ग की रुकावटें
 - b) सुख और दुख
 - c) आस - पास फैली गंदगी
 - d) मन के बुरे भाव
19. वृद्धि संधि किस संधि का भाग है?
 - a) स्वर संधि
 - b) हल् संधि
 - c) विसर्ग संधि
 - d) व्यजन संधि
20. कवि और उसकी रचना का कौन-सा जोड़ा सही नहीं है?
 - a) शिवराज भूषण - भूषण
 - b) शब्द रसायन - देव
 - c) परिमल - सूर्यकांत त्रिपाठी 'निराला'
 - d) उद्धव शतक - भारतेन्दु हरिश्चंद्र
21. निम्न वाक्य किस अव्यय से पूरा होगा: आज धन ___ कोई नहीं पूछता।

- a) के बिना b) साथ
c) तक को d) कहाँ
22. निर्देश: निम्नलिखित में से नीचे दिए गए वाक्य के लिए एक शब्द का चयन कीजिए -
ऐसी चन्द्रिका (या शोभा) जिसे देखने या समझने वाला कोई न हो।
a) अरण्य-चंद्रिका b) अरम्ब चंद्रिका
c) चंद्रिका d) अनुमोदनीय चंद्रण
23. निम्नलिखित में कौन सा वर्ण ओष्ठ्य नहीं है?
a) उ b) ब
c) ऊ d) आ
24. 'सर्व' की भाववाचक संज्ञा है:
a) सर्वत्र b) सर्वस्व
c) सर्वे d) सर्वो
25. "Incredible India" का मान्य हिंदी अनुवाद है-
a) अच्छा भारत b) सोने की चिड़िया
c) भारतवर्ष d) अतुल्य भारत
26. जब कोई सरकारी पत्र, कार्यालय ज्ञापन या ज्ञापन एक साथ अनेक प्रेषितियों को भेजा जा रहा हो, तब उसे क्या कहा जाता है?
a) कार्यालय आदेश b) अधिसूचना
c) अनुस्मारक d) परिपत्र
27. 'अनाड़ी' का तत्सम रूप कौन-सा होगा?
a) अनार्य b) अन्यत
c) अट्टालिका d) अन्यत्र
28. दिए गए शब्दों की सही वर्तनी के साथ विकल्प को चिन्हित करें।
a) अतीथी b) अतिथि
c) आतिथी d) अथिति
29. कर्ता के 'ने' चिह्न का प्रयोग इनमें से कहाँ होता है?
a) संदिग्ध भूत में b) सामान्य भविष्य में
c) सामान्य वर्तमान में d) सामान्य भूत में
30. विशेषण शब्द है:
a) मोटा b) दुर्बल
c) पठारी d) उपरोक्त सभी
31. हिन्दी में पूर्ण विराम चिह्न को छोड़कर शेष चिह्न किस भाषा के हैं?
a) संस्कृत b) अंग्रेजी
c) फारसी d) चीनी
32. निम्नलिखित में से कौन-सा शब्द 'सागर' का पर्यायवाची नहीं है?
a) अंबुधि b) रत्नाकर
c) वारीश d) निर्जर
33. निम्नलिखित में से अर्ध संवृत स्वर का उदाहरण कौन सा है?
a) ओ b) ई
c) ऐ d) ऊ
34. मोहन किताब पढ़ता है। यहाँ पढ़ना कौन सी क्रिया है?
a) सकर्मक b) अकर्मक
c) द्विकर्मक d) इनमें से कोई नहीं
35. किस शब्द में 'इन' प्रत्यय का प्रयोग सही नहीं हुआ है?
a) कुँजड़िन b) नागिन
c) नाईन d) ईसाइन
36. 'गूंगे को गुड़' मुहावरे का क्या अर्थ है?
a) अवारणीय सुख b) गूंगे के हाथ में गुड़
c) गूंगे का गुण d) अवर्णनीय सुख
37. निम्नलिखित विकल्पों में से 'कृश' का विलोम शब्द चुनिए।
a) हृष्ट-पुष्ट b) कायर
c) भाव d) विरत
38. किस वाक्य में विदेशी शब्द नहीं है?
a) कटोरे में कपास रख दो। b) मोनू को चेचक हो गया है।
c) पेन से अपना नाम लिख दो। d) दारोगा जी ने बुलाया है।
39. कार्यालय आदेश किसके लिए निकाले गए आदेशों की सूचना है?
a) मंत्रालय b) संबद्ध विभाग-प्रभाग
c) अनुभव d) इनमें से कोई नहीं
40. लेखक और उसकी कृति के युग्म में कौन-सा युग्म गलत है?
a) बोलगा से गंगा - राहुल b) सूरज का सातवाँ घोड़ा - सांकृत्यायन
c) आर्यों का आदि देश - डॉ. दर्शन दिग्दर्शन - रामचंद्र सम्पूर्णानंद d) शुकल
41. 'अहा! क्या मौसम है।' में कौन-सा अव्यय है?
a) क्रिया-विशेषण अव्यय b) संबंधबोधक अव्यय
c) समुच्चयबोधक अव्यय d) विस्मयादिबोधक अव्यय
42. निर्देश: रिक्त स्थान को भरने के लिए उपयुक्त शब्द का चयन करें।
नेता ने बहुत ही बढ़िया _____ दिया।
a) वाद-विवाद b) प्रवचन
c) आख्यान d) भाषण
43. निम्न में निश्चयवाचक सर्वनाम कौन सा है?
a) वह b) तुम
c) आप d) मैं
44. दिए गए विकल्पों में से विधुर का स्त्रीलिंग कौन - सा है?
a) विधुराइन b) विधुरी
c) विधवा d) विधुरनी
45. मात्रा के आधार पर स्वर कितने प्रकार के होते हैं?
a) \ (2\) b) \ (3\)
c) \ (4\) d) \ (6\)

46. जलद-जलज' शब्द-युग्म का अर्थ _____ होगा।

- a) बादल-कमल b) कमल-बादल
c) मोती-कमल d) कमल-मोती

47. 'पड़ोसी' का पर्यायवाची शब्द है:

- a) कुटुम्ब b) कुनबा
c) बोलबाला d) प्रतिवासी

48. निर्देश: रिक्त स्थान को भरने के लिए उपयुक्त शब्द का चयन करें।

योद्धा ने बहादुरी के साथ _____ की।

- a) लड़ाई b) लिखाई
c) पढ़ाई d) रुलाई

49. किस युग्म में विलोम शब्द नहीं है?

- a) प्रवृत्ति - निवृत्ति b) बहिरंग - अंतरंग
c) प्रत्यक्ष - परवर्ती d) पदोन्नत - पदावनत

50. किस शब्द में तत्पुरुष समास है?

- a) क्षत्रियाधम b) भला-बुरा
c) लालमणि d) बेकाम

51. Direction: Select one of the following four options that will make the second pair analogous to the first pair given as:

SEDATE : ETADES :: BRIM : ?

- a) MBIR b) IRMB
c) MIRB d) BIMR

52. In a code language, TEACHER is written as UIEDIIS. How will PLUMBER be written in that language?

- a) QMVNCFS b) QMANCIS
c) QMVNCIS d) QMANCFS

53. Direction: Study the following arrangement carefully and answer the question given below. \ (2, A, 9, B, 6, C, 13, D, ?)

- a) 9 b) 10
c) 12 d) 19

54. Direction: Study the following information to answer the given Questions:

Seven boxes of deodorant of different brands – AXE, Degree, Envy, Fogg, Nivea, Old spice and Park Avenue are kept one above the other, not necessarily in the same order.

The number of boxes above the box of Fogg is equal to number of boxes below the box of Envy. There is only one box above box of Degree. The box of Park Avenue is the bottom most box. The box of AXE is above box of Old spice, which is above box of Envy.

Which of the following pairs does not belong to the group?

- a) AXE-Degree b) Envy-Nivea

- c) Fogg-Old Spice d) Old Spice – Park Avenue

55. E is the daughter of D whose wife is C. C who is the daughter of A whose husband is B. How is D related to B?

- a) Son-in-law b) Son
c) Grandson d) Father-in-law

56. Direction: In the following question given below consists of a statement, followed by two arguments numbered I and II. You have to decide which of the arguments is a 'strong' argument and which is a 'weak' argument.

Statement: Should all the drugs patented and manufactured in Western countries be first tried out on sample basis before giving licence for sale to general public in India?

Arguments:

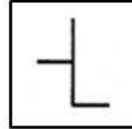
I. Yes. Many such drugs require different doses and duration for Indian population and hence it is necessary.

II. No. This is just not feasible and hence cannot be implemented.


- a) Only argument I is strong b) Only argument II is strong
c) Either I or II is strong d) Neither I nor II is strong

57. Direction: Find the answer figure in which the question figure is embedded?

Question Figure:



Answer Figure:



- a) Figure A b) Figure B
c) Figure C d) Figure D

58. Direction: Dev, Kumar, Niles, Ankur and Pintu are standing facing to the North in a playground such as given below:

Kumar is at 40 m to the right of Ankur.

Dev is at 60 m in the south of Kumar.

Niles is at a distance of 25 m in the west of Ankur.

Pintu is at a distance of 90 m in the North of Dev.

Which one is in the North-East of the person who is to the left of Kumar?

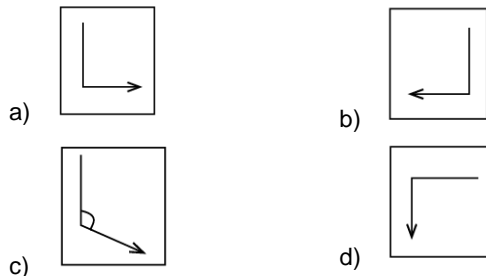
- a) Dev b) Niles
c) Ankur d) Pintu

59. Direction: Dev, Kumar, Niles, Ankur and Pintu are standing facing to the North in a playground such as given below:

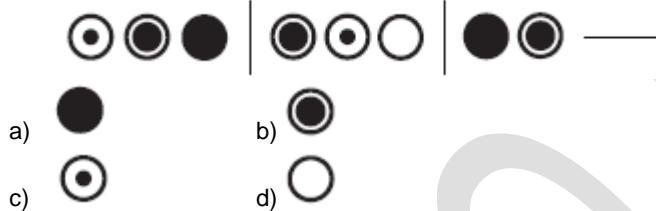
Kumar is at 40 m to the right of Ankur.
 Dev is 60 m in the south of Kumar.
 Nilesh is at a distance of 25 m in the west of Ankur.
 Pintu is at a distance of 90 m in the North of Dev.
 If a boy starting from Nilesh, met to Ankur and then to Kumar and after this he to Dev and then to Pintu and whole the time he walked in a straight line, then how much total distance did he cover?

- a) 215 m b) 155 m
 c) 245 m d) 185 m

60. Choose the different option from the following.



61. Direction: Which figure will come next in the series.



62. Direction: The question given below consists of a statement, followed by two arguments numbered I and II. You have to decide which of the arguments is a 'strong' argument and which is a 'weak' argument.

Statement:

In this modern time, there are people who still believe in superstitions.

Arguments:

I) We have our own beliefs so we must respect others too.

II) We must educate them about good and bad belief.

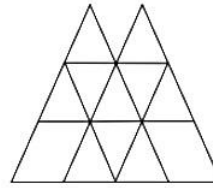
- a) If only argument I is strong b) If only argument II is strong
 c) If either I or II is strong d) If neither I nor II is strong

63. Direction: Which of the following option is related to the fifth term in the same way as the second term is related to the first term and the fourth term is related to the third term.

BENEATH : EBAENHT :: GALLERY : AGELLYR :: EVIDENT : ?

- a) VEDINET b) VEEDNTI
 c) VEDETIN d) VEEDITN

64. Find the number of triangles in the given figure.



- a) 16 b) 15
 c) 18 d) 14

65. Read the following statements and answer the following question.

$(A@B)$ means (A) is the husband of (B)

$(A\#B)$ means (A) is the wife of (B)

$(A\$B)$ means (A) is the son of (B)

$(A\%B)$ means (A) is the daughter of (B)

In the equation $(P\$Q\#R\$S)$, How is (S) related to (P) , if (S) is a female?

- a) Mother-in-law b) Grandfather
 c) Grandmother d) Mother

66. Direction : From the given alternatives, find the word which can be formed from the letters used in the given word.

ANECDOTAL

- a) FATAL b) DENTAL
 c) ANTIDOTAL d) ANCIPITAL

67. Directions: The following data shows the number (in thousands) of people of different age groups in a city who like 7 different kinds of music.

संगीत	आयु वर्ग		
	15-20	21-30	>30
क्लॉसिकल	6	4	17
पॉप	7	5	5
रॉक	6	12	14
जाज	1	4	11
ब्लूज	2	3	15
हिप-हॉप	9	3	4
ऑब्जियेक्ट	2	2	2
योग	33	33	68

What percent of people in the age group of 21 - 30 like pop or hip-hop or blues?

- a) 33% b) 33 1/3 %
 c) 25% d) 13 %

68. Direction: Study the following information carefully and answer the questions given below.

Six friends H, I, J, K, L, and M went on holiday on two different dates, i.e., 2nd and 5th of three different months, i.e., October, November, and December of the same year but not necessarily in the same order. Three people went on holiday between M and K. H went on holiday immediately after L. M went after K. Two people went on

YOUR INSTITUTE NAME WITH LOGO

112. Which of the following soil is transported by gravity?

- a) Aeolian soil b) Colluvium soil
c) Alluvium soil d) Glacial soil

113. With reference to the Swadesh Bandhab Samiti during Swadeshi Movement, consider the following statements:

1- It was the first revolutionary organization in Bengal.

2- It was formed by Ashwini Kumar Dutt.

3- It was able to secure mass support predominantly from muslim peasantry.

Which of the statements given above are correct?

- a) 1 and 3 only b) 2 and 3 only
c) 1 and 2 only d) 1, 2 and 3

114. Where is Chaukhandi Stupa located in Uttar Pradesh?

- a) Allahabad b) Gorakhpur
c) kaushambi d) Sarnath

115. Which of the following country to host the G20 Summit in 2023?

- a) Italy b) Indonesia
c) India d) Brazil

116. Match the following-

	Festival		State
1.	Gangaur	a.	West Bengal
2.	Ganesh Chaturthi	b.	Rajasthan
3.	Durga Puja	c.	Maharashtra

- a) 1-b, 2-c, 3-a b) 1-c, 2-a, 3-b
c) 1-b, 2-a, 3-c d) 1-a, 2-c, 3-b

117. What is the expansion of NASA?

- a) National Agency of Space Administration b) Navigational Aeronautics and Space Administration
c) National Aeronautics and Space Administration d) National Aeronautics and Space Agency

118. Which among the following does not has a legal status?

- a) Cheque b) Demand Draft
c) Bills of exchange d) Hundi

119. The value of a Terabyte is:

- a) 1024 Petabytes b) 1024 Megabytes
c) 1024 Gigabytes d) 1024 Kilobytes

120. Who among the following is NOT an Indian weightlifter?

- a) Karnam Malleswari b) Dipika Pallikal
c) AKSHAY CHOUHAN d) Rakhi Halдар

121. Who wrote 'Ambedkar: A Life'?

- a) Shashi Tharoor b) Naresh Patel
c) Jayesh Gautam d) Anil Tembhre

122. Which of the following is the strongest natural fiber?

- a) Cotton b) Jute
c) Silk d) Wool

123. Where is the famous Buland Darwaza located in Uttar Pradesh?

- a) Fatehpur Sikri b) Lucknow
c) Jaunpur d) Agra

124. According to the Indian Constitution, which of the following has been given Residuary Powers?

- a) Centre b) States and Centre
c) Local Bodies d) States

125. Which of the following matches of Peaks with their state are correct?

1- Dodda Betta- Tamil Nadu

2-Nand Devi- Uttarakhand

3- Anai Mudi- Kerala

4- Saramati- Nagaland

Choose the correct option from the codes given below:

- a) 1 and 2 b) 2 and 3
c) 1, 3 and 4 d) 1, 2, 3 and 4

126. Which of the following is a non-Indian religion?

- a) Buddhism b) Jainism
c) Judaism d) Hinduism

127. Which of the following is not added in the calculation of the national income of India?

- a) The value of goods and services b) The sold value of the old fridge.
c) Services rendered by the housewives. d) Both (B) & (C)

128. In the Rigvedic period, Aranyani is the goddess of _____.

- a) Forest b) River
c) Earth d) Dawn

129. The first source of irrigation in India is:

- a) Canals b) Pond
c) Wells and tube wells d) Other sources

130. When is the United Nations Day celebrated across the world?

- a) October 20 b) October 24
c) November 27 d) November 30

131. Which Indian city has been selected as the first Cultural and Tourism Capital of SCO for 2022-23?

149. In November 2022, India held "Indo-German Week of the Young Researchers 2022 program" with which country?

- a) USA
- b) Germany
- c) France
- d) UK

150. Which one among the following is not a function of Mir Bakshi, the Head of the Military Department as well as of the nobility under the Mughal rule?

- a) He was responsible for all incomes and expenditures and held control over Khalisa, Jagir and Inam lands.
- b) He was responsible for the security of foreign travellers on the highways of the empire.
- c) He made recommendations for appointment to Mansabs to the emperor.
- d) He collected reports of intelligence and information agencies of the empire and presented them to the emperor at the court.

LOGO HERE